



Escola: _____

Professor(a): _____

Aluno(a): _____

Série/ano: _____ Turma: _____

Avaliação e Recomendações ao aluno(a):

() 😊 Parabéns acertou todas.

() 😏 Acertou quase todas mas sei que vai melhorar.










() 😊 Acertou poucas, mas não desista, tente novamente.


A gente aprende tentando acertar, mas quando não conseguir...recomece, não tenha medo de tentar.

DOMINÓ DAS LETRAS

ATIVIDADE DE GEOMETRIA

Vamos conhecer o nome de algumas figuras e elementos geométricos:

- 1  CIRCULO
- 2  QUADRADO
- 3  RETÂNGULO
- 4  TRIÂNGULO
- 5  LOSANGO
- 6  PENTAGONO
- 7  PONTO
- 8  SEGMENTO
- 9  TRAPÉZIO



Olá professor, olá professora, esse material é livre para ser reproduzido. Ele é recomendado para os alunos do fundamental menor, a partir do 3º ano. Utilize com seus alunos, faça registro fotográfico da sua turma e mande para nós. Teremos o maior prazer de colocar em nossa galeria de fotos.

Contatos: e-mail – o.barros@yahoo.com.br Whatsapp: (91) 98180-7624



Escola: _____

Professor(a): _____

Aluno(a): _____

Série/ano: _____ Turma: _____

Avaliação e Recomendações ao aluno(a):

- () 😊 Parabéns acertou todas.
- () 😏 Acertou quase todas mas sei que vai melhorar.
- () 😊 Acertou poucas, mas não desista, tente novamente.

A gente aprende tentando acertar, mas quando não conseguir...recomece, não tenha medo de tentar.

DOMINÓ DOS NÚMEROS E OPERAÇÕES

ATIVIDADE DE ARITMÉTICA

Descubra os números e as operações necessária para se chegar aos resultados. Considere que os quadros só podem ser preenchidos por número de 1 a 9. As sequencias de operações são lineares, ou seja, obedecem a sequencia de números e sinais.

Espaço para rabiscar

Exemplo: $2 + 4 - 5 \times 2 = 2$

$(6) - 5 \times 2 = 2$

$(1) \times 2 = 2$